







NOMBRE: \_\_\_\_\_

## Los números

1. **Une** la cantidad de figuras con el número que le corresponde.

	7
	9
	10
	4
	1
	3

### EVALÚO MI APRENDIZAJE...

**Marca la situación en la que puedes usar lo aprendido**

Lo que aprendí puedo usarlo para...

- Ayudar a mi familia a organizar objetos de cualquier espacio de la casa
- Saber cuántos juguetes tengo en mi habitación
- Jugar y saltar sin límite de tiempo

NOMBRE: \_\_\_\_\_

## Cantidades y números

1. **Observa** en la imagen.



Osos

Balones

Niños

Aviones

### EVALÚO MI APRENDIZAJE...

**Marca la situación en la que puedes usar lo aprendido**

Lo que aprendí puedo usarlo para...

- Ayudar a mi familia a organizar objetos de cualquier espacio de la casa
- Saber cuántos juguetes tengo en mi habitación
- Jugar y saltar sin límite de tiempo

NOMBRE: \_\_\_\_\_

## ¿Cómo se llaman los números?

1. **Escribe** la vocal que falta y **completa** el número.

1

\_\_no

2

d\_\_s

3

tr\_\_s

4

cu\_\_tro

5

c\_\_nco

6

s\_\_is

7

si\_\_te

8

och\_\_

9

n\_\_eve

10

d\_\_ez

### EVALÚO MI APRENDIZAJE...

**Marca la situación en la que puedes usar lo aprendido**

Lo que aprendí puedo usarlo para...

- Ayudar a mi familia a organizar objetos de cualquier espacio de la casa
- Saber cuántos juguetes tengo en mi habitación
- Jugar y saltar sin límite de tiempo

NOMBRE: \_\_\_\_\_

## Las cantidades del pastelero

1. Lee, completa y responde.

Un pastelero  horneó 2 pasteles

de banano  . Luego preparó 7 más

de frutilla 



¿Cuántos pasteles preparó en total?

$$\square + \square = \square$$

### EVALÚO MI APRENDIZAJE...

**Marca la situación en la que puedes usar lo aprendido**


Lo que aprendí puedo usarlo para...

- Ayudar a mi familia a organizar objetos de cualquier espacio de la casa
- Saber cuántos juguetes tengo en mi habitación
- Jugar y saltar sin límite de tiempo


NOMBRE: \_\_\_\_\_

## Sumando animales


1. **Completa** los resultados.



$$1 + 2 + 3 + 1 = \square$$



$$2 + 3 + 2 + 1 = \square$$



$$1 + 2 + 3 + 2 = \square$$

### EVALÚO MI APRENDIZAJE...

**Marca la situación en la que puedes usar lo aprendido**


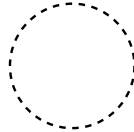
Lo que aprendí puedo usarlo para...

- Ayudar a mi familia a organizar objetos de cualquier espacio de la casa
- Saber cuántos juguetes tengo en mi habitación
- Jugar y saltar sin límite de tiempo

NOMBRE: \_\_\_\_\_

## Cada figura en su lugar

1. **Rodea** el trazo de cada figura y **escribe** su nombre.



### EVALÚO MI APRENDIZAJE...

**Marca la situación en la que puedes usar lo aprendido**


















































Lo que aprendí puedo usarlo para...

- Ayudar a mi familia a organizar objetos de cualquier espacio de la casa
- Saber cuántos juguetes tengo en mi habitación
- Jugar y saltar sin límite de tiempo

NOMBRE: \_\_\_\_\_

## ¿Cuántas figuras hay?

1. **Observa** la imagen, **cuenta** los círculos y **escribe** cuántos hay.

							<input type="text"/>
							<input type="text"/>
							<input type="text"/>
							<input type="text"/>
							<input type="text"/>
							<input type="text"/>
							<input type="text"/>

### EVALÚO MI APRENDIZAJE...

**Marca la situación en la que puedes usar lo aprendido**

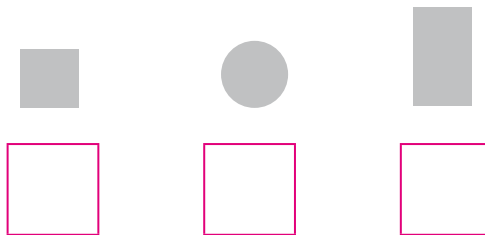

Lo que aprendí puedo usarlo para...

- Ayudar a mi familia a organizar objetos de cualquier espacio de la casa
- Saber cuántos juguetes tengo en mi habitación
- Jugar y saltar sin límite de tiempo

NOMBRE: \_\_\_\_\_

## Formas y figuras

1. **Observa** la imagen, **cuenta** las figuras y **completa** las cantidades.



¿Cómo se llama el objeto de la imagen?

\_\_\_\_\_

### EVALÚO MI APRENDIZAJE...

**Marca la situación en la que puedes usar lo aprendido**

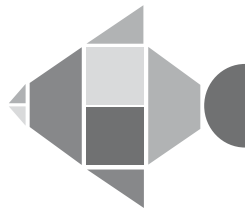
Lo que aprendí puedo usarlo para...

- Ayudar a mi familia a organizar objetos de cualquier espacio de la casa
- Saber cuántos juguetes tengo en mi habitación
- Jugar y saltar sin límite de tiempo

NOMBRE: \_\_\_\_\_

## ¿Cómo se arma?

1. **Ayuda** a Lucía y Juliana a relacionar cada animal con el conjunto de figuras correcto.



### EVALÚO MI APRENDIZAJE...

**Marca la situación en la que puedes usar lo aprendido**


Lo que aprendí puedo usarlo para...

- Ayudar a mi familia a organizar objetos de cualquier espacio de la casa
- Saber cuántos juguetes tengo en mi habitación
- Jugar y saltar sin límite de tiempo

NOMBRE: \_\_\_\_\_

## Números y fechas

1. **Observa** la imagen y **responde**.



¿Cuál es el número encerrado en el calendario?

\_\_\_\_\_

Si el número encerrado es la fecha de cumpleaños de Luis, ¿cuál es la fecha de su cumpleaños?

\_\_\_\_\_

### EVALÚO MI APRENDIZAJE...

**Marca la situación en la que puedes usar lo aprendido**




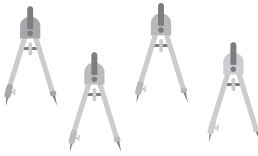
Lo que aprendí puedo usarlo para...

- Ayudar a mi familia a organizar objetos de cualquier espacio de la casa
- Saber cuántos juguetes tengo en mi habitación
- Jugar y saltar sin límite de tiempo

NOMBRE: \_\_\_\_\_

## Sumas correctas

1. **Selecciona** la opción correcta.

 <input type="checkbox"/> 3 <input type="checkbox"/> 4 <input type="checkbox"/> 7	 <input type="checkbox"/> 6 <input type="checkbox"/> 5 <input type="checkbox"/> 7
 <input type="checkbox"/> 1 <input type="checkbox"/> 3 <input type="checkbox"/> 2	 <input type="checkbox"/> 5 <input type="checkbox"/> 4 <input type="checkbox"/> 6

Resuelve y responde.

		= <input type="text"/>
		= <input type="text"/>
		= <input type="text"/>
		= <input type="text"/>



		= <input type="text"/>
		= <input type="text"/>
		= <input type="text"/>
		= <input type="text"/>

### EVALÚO MI APRENDIZAJE...

**Marca la situación en la que puedes usar lo aprendido**


Lo que aprendí puedo usarlo para...






- Ayudar a mi familia a organizar objetos de cualquier espacio de la casa
- Saber cuántos juguetes tengo en mi habitación
- Jugar y saltar sin límite de tiempo

NOMBRE: \_\_\_\_\_

## Usando los números

1. **Observa** los precios y **completa** el costo de los productos.



	=	<input type="text"/>		=	<input type="text"/>
	=	<input type="text"/>		=	<input type="text"/>
	=	<input type="text"/>			

### EVALÚO MI APRENDIZAJE...

**Marca la situación en la que puedes usar lo aprendido**

Lo que aprendí puedo usarlo para...

- Ayudar a mi familia a organizar objetos de cualquier espacio de la casa
- Saber cuántos juguetes tengo en mi habitación
- Jugar y saltar sin límite de tiempo

NOMBRE: \_\_\_\_\_

## Los peces de las peceras

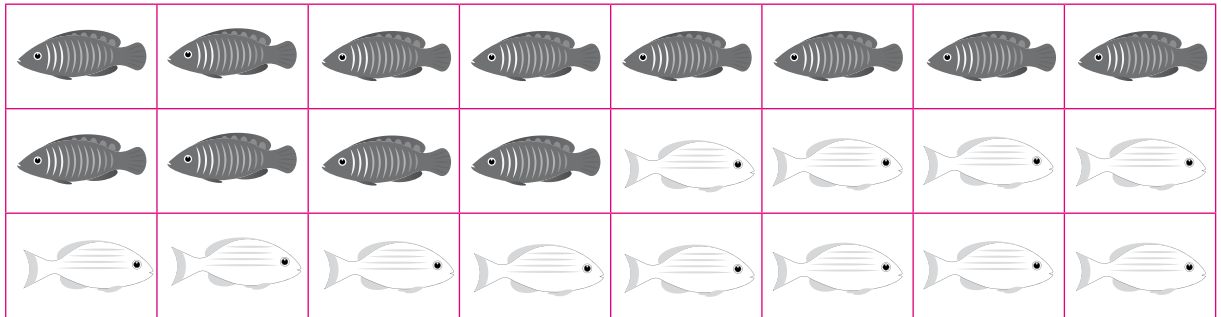
1. **Cuenta** y **ubica** la cantidad de peces que se piden en cada pecera y responde.



**A** 10 peces blancos



**B** 10 peces negros



¿Cuál es la pecera que tiene más peces? \_\_\_\_\_

¿Cuántos peces más hay en la pecera **B**? \_\_\_\_\_

### EVALÚO MI APRENDIZAJE...

**Marca la situación en la que puedes usar lo aprendido**

Lo que aprendí puedo usarlo para...


- Ayudar a mi familia a organizar objetos de cualquier espacio de la casa
- Saber cuántos juguetes tengo en mi habitación
- Jugar y saltar sin límite de tiempo

NOMBRE: \_\_\_\_\_

## Animales en el zoológico

1. Lee y realiza la actividad.

En una visita al zoológico  
un grupo de niños  
observaron varios animales



**Selecciona** las afirmaciones que sean verdaderas.

Había dos jirafas.

Observaron dos leones.

Vieron dos rinocerontes.

Había un búho.

### EVALÚO MI APRENDIZAJE...

**Marca la situación en la que puedes usar lo aprendido**

Lo que aprendí puedo usarlo para...

- Ayudar a mi familia a organizar objetos de cualquier espacio de la casa
- Saber cuántos juguetes tengo en mi habitación
- Jugar y saltar sin límite de tiempo