

Modelo de evaluación diagnóstica para 2.º grado

Nombre y apellido: _____ Paralelo: _____ Fecha: _____

1. **Cuenta** los elementos de cada grupo y **escribe** el número que lo representa.


<p>= _____</p>	<p>= _____</p>
<p>= _____</p>	<p>= _____</p>

2. **Selecciona** con una **X** el grupo que tenga más elementos.



--	--

3. **Completa** la secuencia.










4. **Completa** el nombre de cada figura geométrica.

	
Cuadrad__	Triáng__lo

5. **Escribe** el número representado en cada mano.

6. **Encuentra** las sumas y **colorea** según gustes.

