

NOMBRE: \_\_\_\_\_

## Números y nombres

1. **Escribe** cada número en letras.

456	139	314	128
178	632	558	735

2. ¿Cuál es el número?



Respuesta: \_\_\_\_\_

### EVALÚO MI APRENDIZAJE...

**Marca la situación en la que puedes usar lo aprendido**


Lo que aprendí puedo usarlo para...

- Ayudar a mi familia a organizar objetos de cualquier espacio de la casa
- Saber cuántos juguetes tengo en mi habitación
- Jugar y saltar sin límite de tiempo

NOMBRE: \_\_\_\_\_

## Escribo en letras

1. **Escribe** cada cantidad en letras.

### EVALÚO MI APRENDIZAJE...

**Marca la situación en la que puedes usar lo aprendido**

Lo que aprendí puedo usarlo para...

- Ayudar a mi familia a organizar objetos de cualquier espacio de la casa
- Saber cuántos juguetes tengo en mi habitación
- Jugar y saltar sin límite de tiempo

NOMBRE: \_\_\_\_\_

## Números de varias cifras

1. **Escribe** números y **completa** la tabla.



Un número de	Escríbelo en letras	
Dos cifras		
Tres cifras		
Dos cifras que termine en 8		
Tres cifras que termine en 7		

### EVALÚO MI APRENDIZAJE...

**Marca la situación en la que puedes usar lo aprendido**

Lo que aprendí puedo usarlo para...

- Ayudar a mi familia a organizar objetos de cualquier espacio de la casa
- Saber cuántos juguetes tengo en mi habitación
- Jugar y saltar sin límite de tiempo

NOMBRE: \_\_\_\_\_

## Identifico cuerpos geométricos

1. **Observa** la imagen y **marca** con una **X** donde identifiques cuerpos geométricos.



2. **Selecciona** un cuerpo geométrico de la figura anterior y **escribe** las características que conoces.

Cuerpo geométrico	Características

### EVALÚO MI APRENDIZAJE...

**Marca la situación en la que puedes usar lo aprendido**

Lo que aprendí puedo usarlo para...

- Ayudar a mi familia a organizar objetos de cualquier espacio de la casa
- Saber cuántos juguetes tengo en mi habitación
- Jugar y saltar sin límite de tiempo

## Cuerpos geométricos en mi entorno

Observa la imagen y responde.



1. **Escribe** los juguetes que observas en la imagen.

Respuesta: \_\_\_\_\_

2. **Identifica** el objeto que se relaciona con cada cuerpo geométrico.

Cuerpo geométrico	Objeto de la imagen
Esfera	
Cubo	
Prisma	
Cilindro	

### EVALÚO MI APRENDIZAJE...

**Marca la situación en la que puedes usar lo aprendido**


Lo que aprendí puedo usarlo para...

- Ayudar a mi familia a organizar objetos de cualquier espacio de la casa
- Saber cuántos juguetes tengo en mi habitación
- Jugar y saltar sin límite de tiempo


NOMBRE: \_\_\_\_\_

## Me divierto

1. **Selecciona** la sombra correcta.



2. **Relaciona** las dos imágenes iguales.



### EVALÚO MI APRENDIZAJE...

**Marca la situación en la que puedes usar lo aprendido**


Lo que aprendí puedo usarlo para...

- Ayudar a mi familia a organizar objetos de cualquier espacio de la casa
- Saber cuántos juguetes tengo en mi habitación
- Jugar y saltar sin límite de tiempo

NOMBRE: \_\_\_\_\_

## El regalo

El papá de Luis quiere hacerle un regalo de un juguete y va a la tienda con \$ 10. **Observa** la imagen de los juguetes con sus precios.



- a. **Encierra** en un círculo qué juguetes pudiera escoger el padre de Luis teniendo en cuenta que tiene \$10.
- b. **Subraya** qué juguete no podría comprar el padre de Luis en esta ocasión.
- La guitarra      El oso      El tren      El pato
- c. **Responde:** si el padre de Luis escoge el camión y el pato para el regalo, ¿cuánto deben devolverle?
- un dólar      dos dólares      tres dólares      cuatro dólares

### EVALÚO MI APRENDIZAJE...

**Marca la situación en la que puedes usar lo aprendido**

Lo que aprendí puedo usarlo para...

- Ayudar a mi familia a organizar objetos de cualquier espacio de la casa
- Saber cuántos juguetes tengo en mi habitación
- Jugar y saltar sin límite de tiempo

NOMBRE: \_\_\_\_\_

## De compras

1. Lee la siguiente situación y responde las actividades.

María quiere regalar una canasta navideña a una amiga.  
Ella tiene \$18 para la compra.



a. **Selecciona** las canastas que pudiera comprar María.

Canasta 1

Canasta 2

Canasta 3

b. **Marca** con una **X** la opción correcta.

¿María pudiera comprar la canasta 1? **Sí** \_\_\_\_\_ **No** \_\_\_\_\_

c. **Encierra** la respuesta correcta.

María decide comprar la canasta 3. ¿Cuánto deben devolverle de cambio?

\$1

\$2

\$3

\$4

### EVALÚO MI APRENDIZAJE...

**Marca la situación en la que puedes usar lo aprendido**


Lo que aprendí puedo usarlo para...

- Ayudar a mi familia a organizar objetos de cualquier espacio de la casa
- Saber cuántos juguetes tengo en mi habitación
- Jugar y saltar sin límite de tiempo

NOMBRE: \_\_\_\_\_

## El sudoku

1. Recorta, pega y arma el sudoku.



### EVALÚO MI APRENDIZAJE...

**Marca la situación en la que puedes usar lo aprendido**

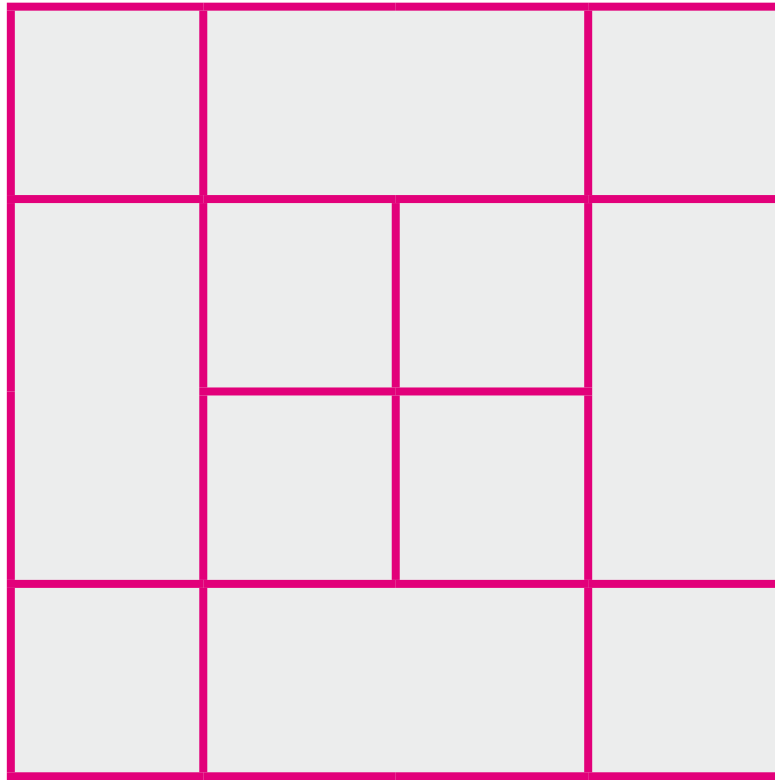
Lo que aprendí puedo usarlo para...

- Ayudar a mi familia a organizar objetos de cualquier espacio de la casa
- Saber cuántos juguetes tengo en mi habitación
- Jugar y saltar sin límite de tiempo

NOMBRE: \_\_\_\_\_

## Cuadrados y rectángulos

1. **Observa** la imagen y **responde**.



¿Cuántos cuadrados hay?

Respuesta: \_\_\_\_\_

### EVALÚO MI APRENDIZAJE...

**Marca la situación en la que puedes usar lo aprendido**

Lo que aprendí puedo usarlo para...

- Ayudar a mi familia a organizar objetos de cualquier espacio de la casa
- Saber cuántos juguetes tengo en mi habitación
- Jugar y saltar sin límite de tiempo

## Las figuras

1. **Observa** la imagen y **realiza** las actividades.



2. **Subraya** la opción correcta.

a. El triángulo aparece en:

1      2      3      4

b. El rectángulo es la opción:

1      2      3      4

c. El pentágono aparece en la opción:

1      2      3      4

3. **Subraya** la opción correcta.

El pentágono tiene:

3 lados y 3 vértices

5 lados y 5 vértices

6 lados y 6 vértices

### EVALÚO MI APRENDIZAJE...

**Marca la situación en la que puedes usar lo aprendido**


Lo que aprendí puedo usarlo para...


- Ayudar a mi familia a organizar objetos de cualquier espacio de la casa
- Saber cuántos juguetes tengo en mi habitación
- Jugar y saltar sin límite de tiempo


NOMBRE: \_\_\_\_\_


## Divisores de un número

1. **Selecciona** los divisores de cada número.

	<table border="0"><tr><td>3</td><td>6</td><td>8</td><td>2</td></tr><tr><td>5</td><td>7</td><td>4</td><td></td></tr></table>	3	6	8	2	5	7	4	
3	6	8	2						
5	7	4							

	<table border="0"><tr><td>1</td><td>3</td><td>9</td><td>6</td></tr><tr><td>7</td><td>11</td><td>5</td><td></td></tr></table>	1	3	9	6	7	11	5	
1	3	9	6						
7	11	5							

	<table border="0"><tr><td>8</td><td>4</td><td>3</td><td>5</td></tr><tr><td>6</td><td>10</td><td>2</td><td></td></tr></table>	8	4	3	5	6	10	2	
8	4	3	5						
6	10	2							

	<table border="0"><tr><td>6</td><td>3</td><td>12</td><td>7</td></tr><tr><td>10</td><td>4</td><td>8</td><td></td></tr></table>	6	3	12	7	10	4	8	
6	3	12	7						
10	4	8							

### EVALÚO MI APRENDIZAJE...

**Marca la situación en la que puedes usar lo aprendido**

Lo que aprendí puedo usarlo para...

- Ayudar a mi familia a organizar objetos de cualquier espacio de la casa
- Saber cuántos juguetes tengo en mi habitación
- Jugar y saltar sin límite de tiempo

NOMBRE: \_\_\_\_\_

## Los días de la semana

1. **Subraya** los días de la semana.

lunes      diciembre      julio      martes      marzo  
enero      miércoles      febrero      mayo      jueves  
abril      viernes      mayo      agosto      octubre  
domingo      junio      septiembre      noviembre      sábado

2. **Selecciona** la opción correcta.

Una semana tiene:

5 días

7 días

12 días

24 días

Los días de la semana que vas a la escuela son:

Respuesta: \_\_\_\_\_

### EVALÚO MI APRENDIZAJE...

**Marca la situación en la que puedes usar lo aprendido**


Lo que aprendí puedo usarlo para...

- Ayudar a mi familia a organizar objetos de cualquier espacio de la casa
- Saber cuántos juguetes tengo en mi habitación
- Jugar y saltar sin límite de tiempo

NOMBRE: \_\_\_\_\_

## Ubicación espacial

1. **Une** los puntos y **descubre** la figura.



### EVALÚO MI APRENDIZAJE...

**Marca la situación en la que puedes usar lo aprendido**


Lo que aprendí puedo usarlo para...

- Ayudar a mi familia a organizar objetos de cualquier espacio de la casa
- Saber cuántos juguetes tengo en mi habitación
- Jugar y saltar sin límite de tiempo

NOMBRE: \_\_\_\_\_

## El recorrido

1. **Sigue** el recorrido que debe seguir la mariposa hasta llegar a la flor.



### EVALÚO MI APRENDIZAJE...

**Marca la situación en la que puedes usar lo aprendido**

Lo que aprendí puedo usarlo para...

- Ayudar a mi familia a organizar objetos de cualquier espacio de la casa
- Saber cuántos juguetes tengo en mi habitación
- Jugar y saltar sin límite de tiempo

NOMBRE: \_\_\_\_\_

## Las multiplicaciones

1. **Observa** los precios y **escribe** el costo de cada producto.

$$\begin{array}{r} 81 \\ \times 22 \\ \hline \end{array}$$

$$\begin{array}{r} 77 \\ \times 16 \\ \hline \end{array}$$

$$\begin{array}{r} 44 \\ \times 23 \\ \hline \end{array}$$

$$\begin{array}{r} 89 \\ \times 46 \\ \hline \end{array}$$

$$\begin{array}{r} 67 \\ \times 49 \\ \hline \end{array}$$

$$\begin{array}{r} 31 \\ \times 45 \\ \hline \end{array}$$

$$\begin{array}{r} 87 \\ \times 96 \\ \hline \end{array}$$

$$\begin{array}{r} 30 \\ \times 28 \\ \hline \end{array}$$

$$\begin{array}{r} 92 \\ \times 17 \\ \hline \end{array}$$

$$\begin{array}{r} 85 \\ \times 34 \\ \hline \end{array}$$

$$\begin{array}{r} 65 \\ \times 56 \\ \hline \end{array}$$

$$\begin{array}{r} 83 \\ \times 42 \\ \hline \end{array}$$

2. **Responde.**

¿Cuáles el número más grande que obtuviste?

Respuesta: \_\_\_\_\_

### EVALÚO MI APRENDIZAJE...

**Marca la situación en la que puedes usar lo aprendido**

Lo que aprendí puedo usarlo para...

- Ayudar a mi familia a organizar objetos de cualquier espacio de la casa
- Saber cuántos juguetes tengo en mi habitación
- Jugar y saltar sin límite de tiempo

NOMBRE: \_\_\_\_\_

## Multiplicar y dividir

1. **Realiza** las operaciones siguientes.

$$\begin{array}{r} 308 \\ \times 844 \\ \hline \end{array}$$

$$\begin{array}{r} 694 \\ \times 170 \\ \hline \end{array}$$

$$\begin{array}{r} 406 \\ \times 527 \\ \hline \end{array}$$

$$\begin{array}{r} 634 \\ \times 971 \\ \hline \end{array}$$

$$\begin{array}{r} 277 \\ \times 488 \\ \hline \end{array}$$

$$\begin{array}{r} 851 \\ \times 149 \\ \hline \end{array}$$

$$\begin{array}{r} 364 \\ \times 589 \\ \hline \end{array}$$

$$\begin{array}{r} 125 \\ \times 335 \\ \hline \end{array}$$

$$\begin{array}{r} 502 \\ \times 238 \\ \hline \end{array}$$

$$\begin{array}{r} 746 \\ \times 381 \\ \hline \end{array}$$

$$\begin{array}{r} 396 \\ \times 285 \\ \hline \end{array}$$

$$\begin{array}{r} 247 \\ \times 505 \\ \hline \end{array}$$



2. **Resuelve.**

$$\begin{array}{r} 665 \\ \hline 6 \end{array}$$

$$\begin{array}{r} 366 \\ \hline 2 \end{array}$$

$$\begin{array}{r} 129 \\ \hline 4 \end{array}$$

$$\begin{array}{r} 700 \\ \hline 3 \end{array}$$

$$\begin{array}{r} 674 \\ \hline 2 \end{array}$$

$$\begin{array}{r} 359 \\ \hline 6 \end{array}$$

$$\begin{array}{r} 510 \\ \hline 3 \end{array}$$

$$\begin{array}{r} 554 \\ \hline 2 \end{array}$$

$$\begin{array}{r} 780 \\ \hline 4 \end{array}$$



### EVALÚO MI APRENDIZAJE...

**Marca la situación en la que puedes usar lo aprendido**

Lo que aprendí puedo usarlo para...

- Ayudar a mi familia a organizar objetos de cualquier espacio de la casa
- Saber cuántos juguetes tengo en mi habitación
- Jugar y saltar sin límite de tiempo