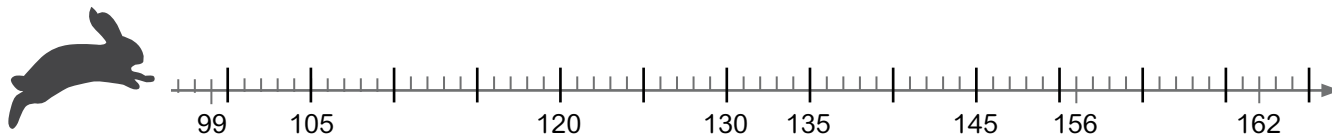




Modelo de evaluación diagnóstica para cuarto grado

Nombre y apellido: _____ Paralelo: _____ Fecha: _____

1. **Marca** los puntos 105, 118, 137, 153 y 161 en los que se ubicará la liebre.



2. **Escribe** los meses del año.




3. **Encierra** los meses con 31 días.

Enero	Marzo	Mayo	Julio	Septiembre	Noviembre
Febrero	Abril	Junio	Agosto	Octubre	Diciembre

4. **Aproxima** los siguientes números.

334: _____ 122,5: _____ 554,9: _____ 623,8: _____



5. **Completa** la tabla.

Número	Mitad	Doble
210		
300		
180		
560		
420		
800		

6. **Relaciona** con una línea cada nombre con la figura correcta.

Rectángulo

Cuadrado

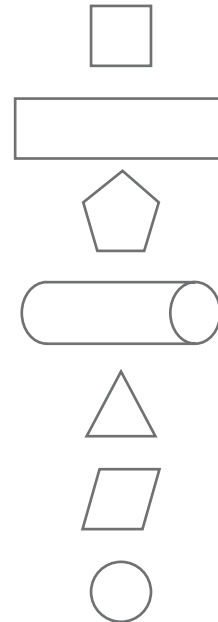
Triángulo

Pentágono

Cilindro

Esfera

Paralelogramo



7. **Completa** las afirmaciones siguientes.

	Equivalencia	
20 días		horas
6 meses		semanas
2 años		meses
7 semanas		días
5 horas		segundos