

# Modelo de evaluación diagnóstica para 6° grado

Nombre y apellido: \_\_\_\_\_ Paralelo: \_\_\_\_\_ Fecha: \_\_\_\_\_

1. **Escribe** en palabras los siguientes números.

5866: \_\_\_\_\_


900 038: \_\_\_\_\_

103 000: \_\_\_\_\_

569 299: \_\_\_\_\_

899 000: \_\_\_\_\_

1 000 000: \_\_\_\_\_



2. **Ubica** en la tabla de valor posicional.


5005

998 003

120 200

12 001

10 899



Millares			Unidades		
cm	dm	um	c	d	u



3. **Ordena** en forma ascendente.


25 635; 25 457; 25 754; 27 004; 27 040

120 032; 291 042; 120 045; 25 054; 103 045

4. **Escribe** la descomposición de cada número.

Número	Descomposición
568 006	
235	
123 211	
51 248	
613 050	

5. **Calcula** los productos y **colorea** como gustes.



6. **Identifica** cada figura geométrica.

