

Modelo de evaluación diagnóstica para 4° grado

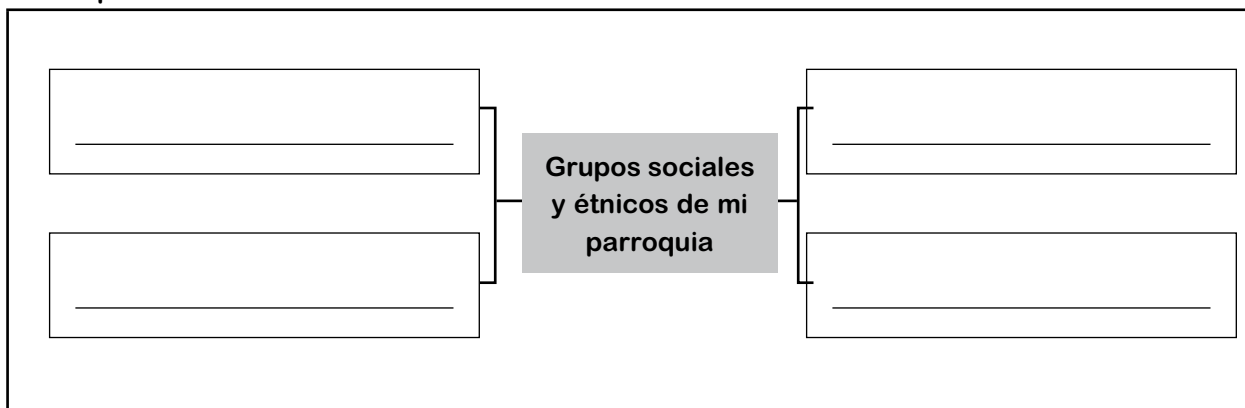
Nombre y apellido: _____ Paralelo: _____ Fecha: _____

1. Completa la ficha.

Yo, vivo en la parroquia _____
Pertenece al cantón _____
La parroquia lleva este nombre en honor a _____
Una de las características que identifican a mi parroquia _____

2. Realiza una narración breve de la fiesta más importante que se lleva a cabo en tu cantón.

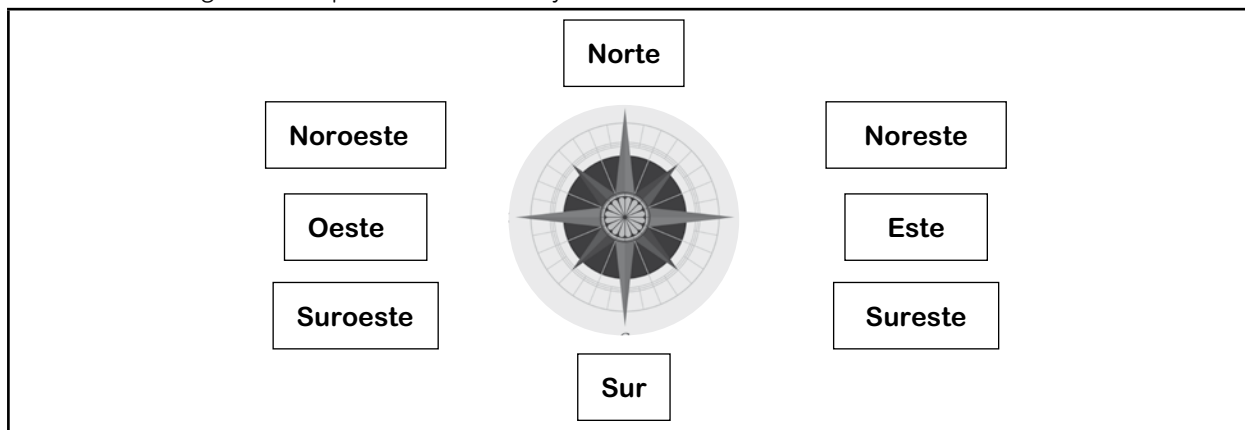
3. Completa los recuadros.




4. Escribe cuatro actividades culturales que se realizan en tu parroquia.



5. Señala en el gráfico los puntos cardinales y colaterales.



6. Observa cada imagen y escribe el riesgo a los que podrían estar expuestos los habitantes.



7. Subraya la frase que completa cada uno de los siguientes enunciados.

a) El cantón es constituido por la unión de:

Dos o más parroquias **Tres manzanas**

Dos provincias pequeñas **Un vecindario**

b) La máxima autoridad de la parroquia rural es:

El alcalde **El presidente**

El presidente de la junta parroquial **El prefecto**